



ZVEZA ZA TEHNIČNO KULTURO SLOVENIJE

40. TEKMOVANJE IZ ZNANJA LOGIKE

ŠOLSKO TEKMOVANJE, 25. 9. 2025

1. RAZRED

IME IN PRIIMEK: _____

RAZRED: _____

MENTOR: _____

NALOGA	MOŽNE TOČKE	DOSEŽENE TOČKE
1	8	
2	6	
3	6	
4	6	
5	6	
SKUPAJ	32	





REŠITVE ČITLJIVO ZAPIŠI NA TEKMOVALNO POLO.
ČAS REŠEVANJA JE 45 MINUT.

TEKMOVALNA KOMISIJA TI ŽELI VELIKO USPEHA PRI REŠEVANJU!

AVTORJI NALOG: 1. DORIS KERŠIČ, 3. ALEŠ VAVPETIČ, 4. MATEJA HRAST, 5. MARIJA AHČIN IN DRUGI ČLANI KOMISIJE ZA LOGIKO

1. NALOGA: ROŽE

POBARVAJ MANJKAJOČE CVETOVE V KORITIH TAKO, DA BODO V VSEH KORITIH ROŽE POSAJENE V ENAKEM VRSTNEM REDU.



2. NALOGA: ŽOGANJE

NA IGRIŠČU SO SE ŽOGALI JANI, SVIT, INES IN TAMARA.

DOGOVORILI SO SE, DA LAHKO ŽOGO PODAŠ LE TISTEMU, KATEREGA IME SE ZAČNE Z ZADNJO ČRKO TVOJEGA IMENA.

ZAČEL JE JANI. VSAK JE IMEL ŽOGO V ROKAH NATANKO ENKRAT.

DOPOLNI ZAPOREDJE, V KATEREM SO SI PODAJALI ŽOGO.

POVEŽI IMENA NA PRAVO MESTO.

SVIT

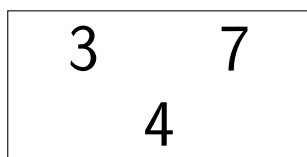
INES

TAMARA

JANI → _____ → _____ → _____

3. NALOGA: ŠTEVILA 347

PRIJATELJI INES, OTON IN URŠA SO NA TABLO NAPISALI ŠTEVILA.



INES JE REKLA: NISEM NAPISALA NAJMANJŠEGA ŠTEVILA.

OTON JE REKEL: NAPISAL SEM VEČJE ŠTEVILO KOT INES.

KATERO ŠTEVILO JE NAPISALA INES? _____ OTON? _____ URŠA? _____

4. NALOGA: ROMUNŠČINA

V ROMUNŠČINI SE, KADAR ŽELIMO POVEDATI, DA JE NEČESA VELIKO, BESEDAM NA KONCU DODA ČRKA I. PODANIH JE NEKAJ PRIMEROV. POVEŽI BESEDE NA DESNI NA ČRTE POD SLIKAMI.



POM



POMI



DOCTOR



DOCTORI



COLAC



_____ NORI



NOR



_____ ELEV





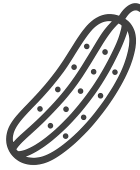









_____ COLACI

_____ ELEVI


5. NALOGA: VRTNINE

ANA JE V TRGOVINI KUPILA ŠTIRI LONČKE VRTNIN: ČESEN, KUMARO, PAPRIKO IN ZELJE. DOMA JE VSE ŠTIRI VRTNINE POSADILA V VRSTO. ZA VSAKO VRTNINO JE UPOŠTEVALA DOBRE IN SLABE SOSEDE. DOBRA SOSEDA JE POSADILA SKUPAJ, SLABA SOSEDA PA NARAZEN.

V PRVEM STOLPCU SO NARISANE RAZLIČNE VRTNINE, V SREDNJEM NJIHOVI DOBRI SOSEDJE, V ZADNJEM STOLPCU PA SLABI SOSEDJE.

VRTNINA	DOBRI SOSEDJE	SLABI SOSEDJE
 PAPRIKA	  ČESEN KUMARA	 ZELJE
 ZELJE	 KUMARA	  PAPRIKA ČESEN
 KUMARA	  ZELJE PAPRIKA	 ČESEN

UPOŠTEVAJ PREGLEDNICO IN V OKVIRČKE ZAPIŠI PRVO ČRKO VRTNINE.

 ZELJE			
--	--	--	--